

<範圍：第一章~第二章>

【劃卡代號：52】

班級：

座號：

姓名：

參考範例：

※答案卡限用 2B 鉛筆劃記，答案請劃記明確；若有劃記錯誤，請擦拭乾淨。分數以電腦讀卡分數為準。

※請作答於答案卷上，考試完畢僅繳交答案卷，請不要填錯格。

一、選擇題(共 33 題，第 1 題 4 分，其餘每題 3 分，滿分 100)

※右圖為中國五大地形面積比例

圖，請參考該圖回答第 1~2 題：

1. 圖中的甲、乙分別為何種地形？

- (A)平原、丘陵 (B)高原、山地
(C)高原、臺地 (D)高原、盆地

2. 由該圖可說明中國自然環境的何種特徵？

- (A)地形多元複雜 (B)地勢西高東低
(C)位置面海背陸 (D)整體面積廣大

※右圖為中國地形某階的山脈走向，請參考該圖回答第 3~4 題：

3. 造成此處山脈走向的主因為何？

- (A)河流侵蝕方向 (B)季風吹拂方向
(C)板塊擠壓方向 (D)風力侵蝕方向

4. 關於圖中「甲」地形的敘述，何者正確？

- (A)河流長期侵蝕，導致地表崎嶇不平
(B)受歐亞板塊與太平洋板塊擠壓而成
(C)自古即為中國與南亞間的天然屏障
(D)世界最高的高原，別名「世界屋脊」

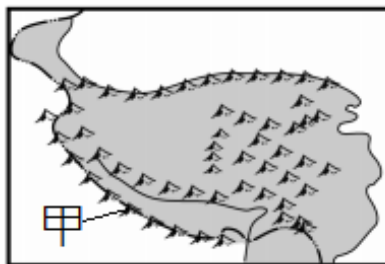
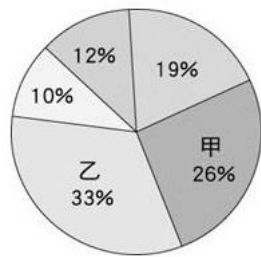
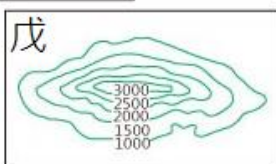
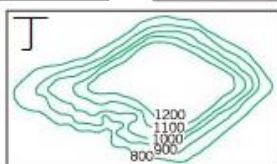
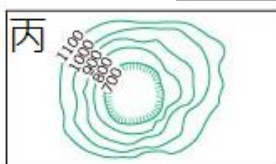
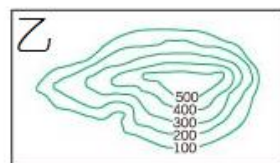
※右圖為中國地形三級階梯示意圖，請參考該圖回答第 5~6 題：

5. 由該圖「無法」推論出哪個相關現象？

- (A)河流流向由西往東
(B)人工運河為南北向
(C)東邊氣候相對暖溼
(D)人口由東往西遷移

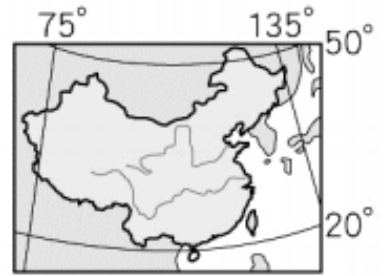
6. 下列等高線地形圖，何者最能代表次高階梯的地形主體？

- (A)甲、乙 (B)乙、丙 (C)丙、丁 (D)丁、戊



7. 參考右邊的中國疆域圖，下列關於中國位置及疆域特性的敘述，何者正確？

- (A)中國總共跨 4 個時區
(B)溫帶氣候的範圍最大
(C)鄰國稀少，不利交流
(D)位於西半球和北半球



8. 生活在雲貴高原上的少數民族，受獨特地形氣候影響，產生與眾不同的風俗習慣，而有「雲南十八怪」之說。其中一怪為「四季服裝同穿戴」，是因當地氣候冬不冷，夏不熱，形成四季亂穿衣的特色。導致其冬不冷，夏不熱的主因為何？

- (A)緯度低，地勢高 (B)緯度低，地勢低
(C)緯度高，地勢高 (D)緯度高，地勢低

※右圖為中國地形分布圖，請參考該圖回答第 9~13 題：

9. 弘道考察團利用晚上休息時間打電話回家報平安。若於晚上 20:00 從甲地的烏魯木齊(87°E)打電話回家，臺灣家人接到電話時是幾點？

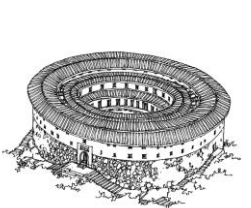


- (A)22:00 (B)21:00 (C)19:00 (D)18:00

10. 此處地勢高聳，冬冷夏涼，高原上充斥冰河與湖泊，是兩極地區以外冰雪儲量最大的地區，有低緯度高海拔「冰河王國」之稱。豐富的水資源就像巨大的水塔，為亞洲重要大河發源地。若想實地考察「亞洲水塔」，應至圖中何處？

- (A)甲 (B)丙 (C)丁 (D)戊
(A)乙 (B)丁 (C)戊 (D)庚

12. 承上題，該處居民為適應自然環境，就地取材建造適合當地環境的住所。考察團在當地最有機會入住下列何種特色民居改建而成的旅館？

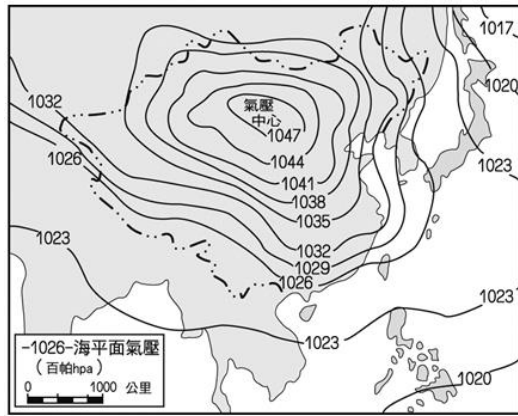
- (A) (B) (C) (D)



13. 弘道考察團最終站來到圖中「丙」地，他們會看到何種景色？

- (A)平原廣大，採機械化集約農業
(B)溶蝕作用形成獨特石灰岩地景
(C)河湖星羅棋布，如同水鄉澤國
(D)形勢封閉，高低起伏多關梯田

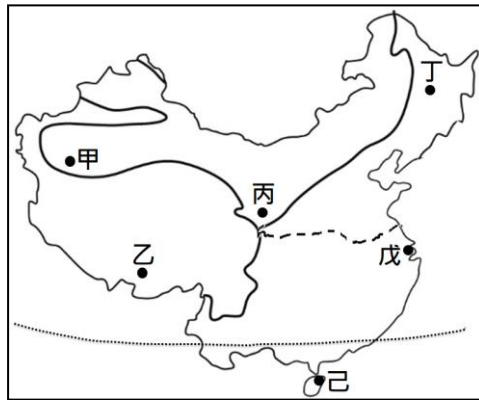
※右圖為中國某季節地面天氣圖，請參考該圖回答第 14~15 題：



14. 當此季節走在廣州市的街上，最可能看到何種景象？(A)清明時節雨紛紛(B)端午節，賽龍舟 (C)中秋月圓人團圓 (D)舞龍舞獅慶春節

15. 此季節首都北京的盛行風向應為何？
(A)西南風 (B)西北風 (C)東南風 (D)東北風

※右圖為中國氣候類型圖，請參考該圖回答第 16~19 題：

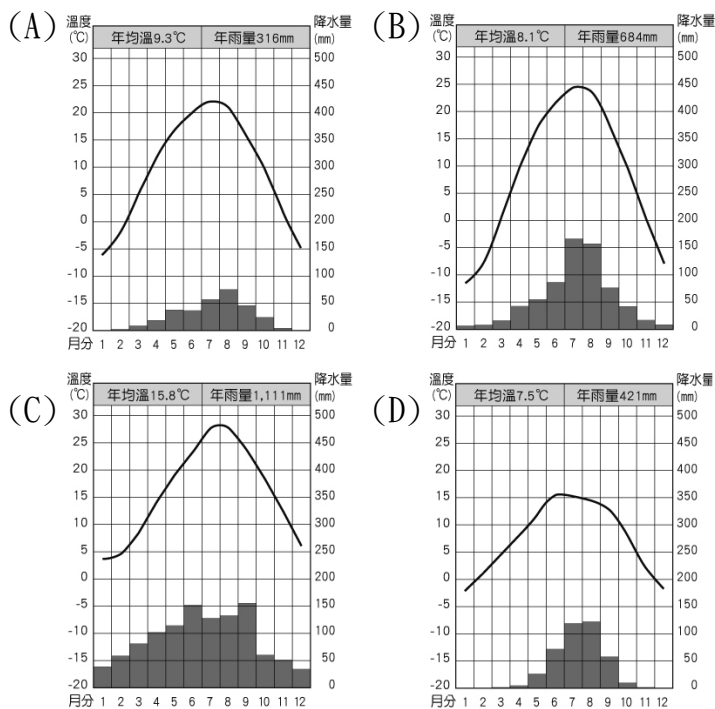


16. 圖中的丁、戊、己位於同一氣候區，資料顯示丁地年溫差為 40 度，己地年溫差僅 10 度。造成此現象的主因為何？(A)地形差異 (B)距海遠近 (C)緯度高低 (D)季風風向

17. 中國西藏自治区的居民及僧侶常穿著容易穿脫的袍子(如右圖)，以適應當地氣候變化。下列哪句諺語最能呈現當地氣候特色？



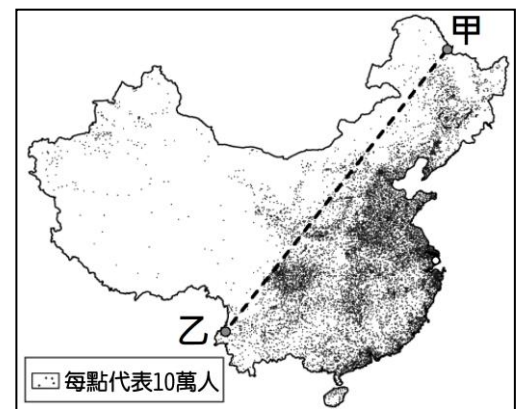
- (A)一年無四季，一日見四季
(B)一山有四季，十里不同天
(C)四時皆是夏，一雨便成秋
(D)朝穿皮襖午穿紗，抱著火爐吃西瓜
18. 承上題，在圖中何處最有機會親眼欣賞到藏族傳統服飾？(A)甲 (B)乙 (C)丙 (D)己
19. 下列何圖最能代表「乙」都市的氣候特色？



20. 上圖為中國「一帶一路」路線示意圖，其中「一帶：陸上經濟帶」自西安出發，經中國哪個行政區往西進入中亞，以促進歐亞貿易往來？

- (A)西藏自治區 (B)內蒙古自治區
(C)廣西壯族自治區 (D)新疆維吾爾自治區

※右圖為中國人口分布圖，請參考該圖回答第 21~23 題：



21. 圖中甲、乙兩都市的連線為人口稀疏與稠密的分界線，甲、乙分別為哪個都市？
(A)黑河、騰衝 (B)黑河、拉薩 (C)哈爾濱、海南 (D)北京、廣州
22. (甲)中國人口分布極度不均 (乙)中國人口總數世界第一 (丙)東半部環境負載力較高 (丁)西半部人均居住空間較大。參考該圖，可看出哪些中國人口特色？
(A)甲、乙、丙、丁 (B)甲、乙、丁 (C)甲、丙、丁 (D)乙、丙、丁
23. 圖中甲、乙兩都市連線為人口稀疏與稠密的分界線，也大致與下列哪些分界線相符？
(甲)最高與最低地形階梯 (乙)乾燥與溼潤氣候 (丙)草原與沙漠氣候 (丁)農業區與畜牧區
(A)甲、乙、丙、丁 (B)甲、乙、丙 (C)乙、丙 (D)乙、丁

24. 移民者將原鄉文化帶到移居地，形成文化擴散現象。下列舉例中，哪些符合文化擴散現象？(甲)馬偕街淡水禮拜堂 (乙)臺南鹿耳門天后宮 (丙)美國舊金山唐人街 (丁)泰國新年的潑水節
(A)甲、乙、丙 (B)甲、乙、丁 (C)甲、丙、丁 (D)乙、丙、丁

25. 2020 年，中國人口總數已達 14 億，佔世界人口 1/5。龐大的人口將成為發展的阻力，但也代表何種發展優勢？
(A)原料、市場 (B)勞工、市場 (C)動力、勞工 (D)資金、技術

項目	南部地區	北部地區
(甲)年降水量	500mm 以上	500mm 以下
(乙)氣候類型	溫帶季風	副熱帶季風
(丙)交通方式	水運為主	陸運為主
(丁)主要糧食作物	水稻	小麥

26. 秦嶺、淮河為中國南部與北部的分界，將兩區地理環境差異整理如上表，表中所示何者正確？

- (A)甲、乙 (B)甲、丙 (C)乙、丙 (D)丙、丁

27. 「1933 年，這四位男大生每晚都會在寢室討論如何擺脫單身，某天得到了將 11 月 11 日訂為光棍節慶祝的靈感，自此之後光棍節逐漸成為中國大陸各大學間流行的文化。」導致單身男性難以找到女性伴侶的主因為何？

- (A)人口素質不均 (B)城鄉差距過大 (C)性別比例失衡 (D)人口老化嚴重

※隨著歷年人口政策轉變，中國農村產生許多與計畫生育政策相關的標語如下。請回答第 28~29 題：

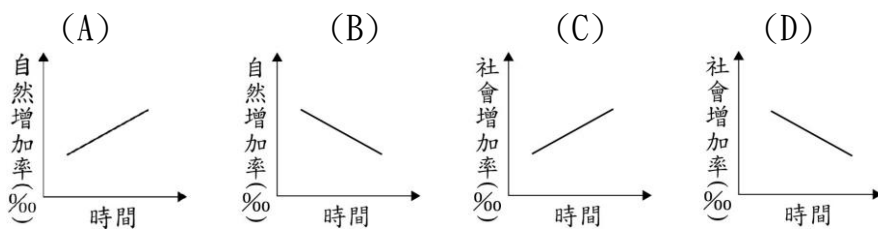
1980 年代：一對夫妻一個娃，計外生育要受罰

2015 年：生男生女都一樣，不然兒子沒對象

2016 年：一個太少，兩個正好，一個嫁人，一個養老

2021 年：只生三個好，輪流來養老

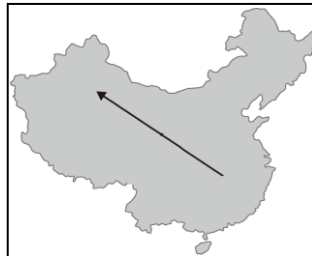
28. 觀察上述標語的變化，下列何圖最能代表中國歷年人口變化狀況？



29. 1980~2021 年人口政策的轉變，是為了因應未來可能發生的何種問題？

- (A)人口總數過多 (B)環境負載力低 (C)人口大量移出 (D)人口結構失衡

30. 右圖中箭頭所指方向，代表中國某現象的變化趨勢。右圖箭頭行進方向與下列何種現象變化最相符？



- (A)人口密度由低到高 (B)地形變化由高到低 (C)夏季由乾熱變溼熱 (D)經濟發展由快到慢

31. 明清時期，中國東南沿海華人遠渡重洋到臺灣、東南亞等地開墾，主要是因原居地有哪些推力？

- (甲)就業機會多 (乙)山多平原少 (丙)氣候溫和溼潤 (丁)人口急速增加

- (A)甲、乙 (B)甲、丙 (C)乙、丙 (D)乙、丁

32. 「好萊塢男星約翰·希南為即將上映的《玩命關頭 9》宣傳，在訪談時以中文說：「台灣是第一個國家看到《玩命關頭 9》。」這句話稱台灣為「國家」，引發中國網友的怒火。事後約翰·希南在個人微博發佈了道歉聲明。約翰·希南之所以對中國民眾的意見如此重視，從票房成績來看便不難理解，畢竟《玩命關頭 9》於中國上映，首週末就貢獻了 1.37 億美金的票房，佔全球 1.63 億美金將近 85%，足以見識中國市場的威力。」由上文可看出中國人口何種特色？

- (A)人口稠密，勞力充足 (B)經濟進步帶動人口成長 (C)人數眾多，市場廣大 (D)人口過剩，壓力龐大

地區	年降水量(毫米)	一月月均溫(°C)	七月月均溫(°C)
甲	175	-19	23
乙	683	-10	25.4
丙	1,111	8	29
丁	1,682	20	30

33. 上表為中國各地氣候資料，表中哪個地區居民餐桌上常見拉麵、烙餅、貓耳朵、餃子、雜糧煎餅和麵圈配大餅等主食？

- (A)甲 (B)乙 (C)丙 (D)丁